



**PROVA DI AMMISSIONE AL CORSO DI LAUREA IN SCIENZE DELLA FORMAZIONE
PRIMARIA**

Anno Accademico 2013/2014

Test di Competenza linguistica e Ragionamento logico

1. **Se un esperto ellenista dichiara che non è vero che tutti gli abitanti di Atene possedevano scudo e spada, cosa si può dedurre dalla sua osservazione?**
 - A) C'è qualche abitante di Atene che non ha lo scudo oppure non ha la spada
 - B) Gli abitanti di Atene non hanno né scudo né spada
 - C) Gli abitanti di Atene se hanno lo scudo non hanno la spada
 - D) Tutti gli abitanti di Atene hanno lo scudo ma non hanno la spada

2. **Completare correttamente la frase seguente: “Il professore che presto il nostro profitto”.**
 - A) affermò; avrebbe valutato
 - B) aveva affermato; valuterebbe
 - C) afferma; valutava
 - D) affermò; valuta

3. **Completare correttamente la frase seguente: “..... le procedure burocratiche siano lente non dobbiamo scoraggiarci”.**
 - A) Quantunque
 - B) Poiché
 - C) Tuttavia
 - D) Come


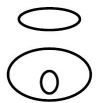

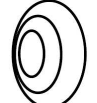
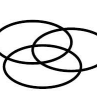
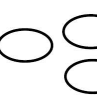
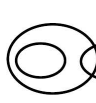
4. **Al gran raduno nazionale di un'associazione sono invitati i cantautori che partecipano al concerto finale e gli iscritti all'associazione. Ognuno degli invitati può portare non più di due suoi amici e un solo parente. Chi tra i seguenti invitati NON rispetta le regole?**
 - A) Renzo, perché porta tre amici
 - B) Giovanni, perché porta tre amici tra cui suo cugino
 - C) Lucia, perché porta il fratello di suo zio paterno
 - D) Marino, perché porta suo figlio e un'amica

5. **Un sinonimo di “scialbo” è:**
 - A) smorto
 - B) estroso
 - C) intenso
 - D) scettico

6. **Individuare quale fra le seguenti alternative è un participio passato.**
 - A) Imputato
 - B) Pergolato
 - C) Fortuito
 - D) Canuto

7. Nella frase: “Non piovendo, il raccolto è ormai compromesso”, “Non piovendo” ha valore:
- A) causale
 - B) temporale
 - C) modale
 - D) finale
8. Nella frase: “Improvvisamente scoppiò un temporale”, “Improvvisamente” è un:
- A) avverbio
 - B) aggettivo
 - C) sostantivo
 - D) verbo
9. Utilizzando l’alfabeto italiano, completare correttamente la seguente successione di lettere:
L; N; P; R; T
- A) V
 - B) B
 - C) U
 - D) Z
10. Individuare fra le seguenti alternative il verbo intransitivo.
- A) Nascere
 - B) Abbreviare
 - C) Avvistare
 - D) Accludere
11. Individuare, tra i seguenti aggettivi, quello di grado superlativo assoluto.
- A) Minimo
 - B) Migliore
 - C) Più agile
 - D) Il migliore
12. Si indichi, fra le seguenti proposizioni, quella che contiene un errore.
- A) La professoressa reagiva molto duramente, quando gli studenti gli rivolgevano la parola in modo scortese
 - B) I due amici, terminati gli esami, fecero le valigie e si concessero un bel viaggio
 - C) Dopo l’incendio, la devastazione del bosco, prima tanto rigoglioso, lasciava esterrefatti
 - D) Non credo ai miei orecchi
13. Quale delle seguenti alternative NON è corretta dal punto di vista grammaticale?
- A) Tu fingetti solo per attirare la loro attenzione
 - B) Misero quattro cose nello zaino e partirono immediatamente
 - C) Giunto colà, se ne andò dopo poco
 - D) Siamo contenti di voi perché in quell’occasione reggeste da soli il peso della nostra offensiva
14. Quali, tra i termini proposti, completano correttamente la seguente proporzione verbale?
Bonn : X = Lione : Y
- A) X = Germania; Y = Francia
 - B) X = Mosca; Y = Berlino
 - C) X = tedeschi; Y = italiani
 - D) X = Berlino; Y = Ginevra



15. Individuare la proposizione concessiva nel seguente periodo: “Sebbene le previsioni annunciassero cattivo tempo, oggi è una giornata perfetta per andare in montagna a campeggiare”.
- A) Sebbene le previsioni annunciassero cattivo tempo
 - B) oggi è una giornata perfetta
 - C) per andare in montagna
 - D) a campeggiare
16. “Non vi è motivo di escludere la possibilità di vita su Urano. Dunque dobbiamo intraprendere l'esplorazione di questo pianeta”. L'argomentazione sopra riportata presuppone che:
- A) la ricerca della vita è una ragione sufficiente per l'esplorazione dei pianeti
 - B) Urano è l'unico pianeta del sistema solare sul quale è possibile incontrare forme di vita
 - C) la vita su Urano esiste
 - D) grazie all'esplorazione di Urano sarà possibile osservare la possibilità di vita sul pianeta
17. Quale, tra i termini proposti, completa correttamente la seguente proporzione verbale?
calore : ebollizione = X : Y
- A) X = dinamite; Y = esplosione
 - B) X = gamba; Y = collant
 - C) X = benzina; Y = macchina
 - D) X = freddo; Y = sci
18. Quale tra le seguenti frasi contiene un complemento d'agente?
- A) La "Traviata" è un'opera composta da Giuseppe Verdi
 - B) Il villaggio è stato spazzato via da una mareggiata
 - C) Con quel cappello in testa mi fai morire dal ridere
 - D) Da quello che vedo non sei cambiato affatto
19. Individuare la frase in cui l'uso del gerundio è sintatticamente corretto.
- A) Conoscendo perfettamente la situazione, ho preferito non fare domande
 - B) Acquistando il regalo per il tuo compleanno, verrei a farti visita
 - C) Non saprei cosa fare una volta tornando da Roma
 - D) Smettendo di piovere, decisi che sarei uscito in bicicletta
20. Individuare la frase corretta.
- A) Chi avrà fatto più di cinquanta assenze verrà bocciato
 - B) Bisogna che prendi un po' di tempo per riposarti
 - C) Può capitare che parte in ritardo
 - D) Riordino prima che arriva la mamma
21. Individuare il diagramma della figura che soddisfa la relazione insiemistica esistente tra i termini dati.
Pittori, Pittori impressionisti, Quadri impressionisti
- DIAGRAMMA 1  DIAGRAMMA 2  DIAGRAMMA 3  DIAGRAMMA 4  DIAGRAMMA 5  DIAGRAMMA 6  DIAGRAMMA 7 
- A) Diagramma 2
 - B) Diagramma 4
 - C) Diagramma 5
 - D) Diagramma 1

22. Individuare il diagramma della figura che soddisfa la relazione insiemistica esistente tra i termini dati.

Librerie, Vetrine, Giornalai

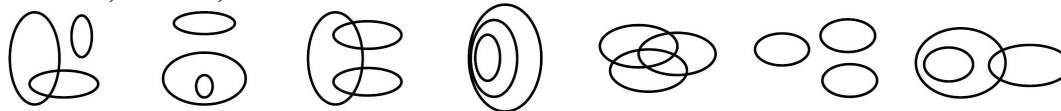


DIAGRAMMA 1

DIAGRAMMA 2

DIAGRAMMA 3

DIAGRAMMA 4

DIAGRAMMA 5

DIAGRAMMA 6

DIAGRAMMA 7

- A) Diagramma 6
- B) Diagramma 1
- C) Diagramma 4
- D) Diagramma 3

A ognuno dei tre testi seguenti è riferito un quesito che deve essere risolto individuando tra le alternative proposte la rielaborazione che meglio sintetizza il contenuto del testo di partenza in base ai criteri seguenti:

chiarezza: la rielaborazione deve esprimere chiaramente e completamente l'argomentazione principale del testo;

essenzialità: la rielaborazione deve evitare ridondanze e argomentazioni secondarie o subordinate e non può riportare informazioni aggiuntive o diverse da quelle contenute nel testo di partenza;

somiglianza: la rielaborazione deve contenere tutti i principali concetti espressi nel testo di partenza.

23. "Educare bambini e adolescenti, sostenerli nel percorso evolutivo, 'tener duro nel lavoro di sostegno', come amava dire Winnicott, affinché possano crescere sviluppando appieno le loro individualità, sembra oggi un compito sempre meno banale e 'naturale' e, anzi, sempre più complesso, difficile da decifrare e attuare, visto anche il crescente numero di bambini e adolescenti che possiamo definire 'in difficoltà', più o meno esplicite."

Individuare l'alternativa che meglio sintetizza il testo secondo i criteri indicati.

- A) Attualmente l'educazione di bambini e adolescenti, intesa, come pensava Winnicott, come lavoro di sostegno allo sviluppo delle loro individualità, appare un compito complesso e non semplice da attuare, anche in conseguenza dell'aumento di bambini e adolescenti in difficoltà.
- B) Come afferma Winnicott, il sostegno a bambini e adolescenti in difficoltà è un compito nel quale bisogna 'tenere duro' in quanto risulta difficile da realizzare oggi a causa dell'aumento delle individualità e della complessità di problemi che ne derivano.
- C) L'educazione di bambini e adolescenti oggi richiede un impegno maggiore che in passato, in quanto non consiste solo nel sostegno alle loro individualità, come sostenuto da Winnicott, ma riguarda un aumento delle loro difficoltà.
- D) Oggi le nuove esigenze di bambini e adolescenti, che appaiono sempre più in difficoltà, rendono il compito dell'educazione loro rivolta meno naturale e banale, più complesso, tanto che Winnicott parla di 'tenere duro' nel sostegno all'educazione.

24. "La metà dei ragazzini che utilizzano i siti di social network ha visto immagini che ritraevano loro amici con sostanze stupefacenti o sigarette e molti di loro al momento della visione erano tredicenni, se non più giovani. Il difficile quanto cruciale compito di guida dei genitori è ancora una volta enfatizzato dallo studio, dal quale emerge che è fondamentale che madre e padre facciano fronte compatto nei messaggi da dare ai figli, evitando pareri discordi di fronte alla prole. Il consiglio a mamma e papà è dunque di vigilare continuamente sui figli quando sono ancora in tenera età, a costo di essere invadenti e poco rispettosi della privacy."

Individuare l'alternativa che meglio sintetizza il testo secondo i criteri indicati.

- A) I genitori hanno il compito fondamentale di fare fronte compatto nei messaggi da dare ai figli fin dalla tenera età e di vigilare sull'utilizzo dei social network da parte dei figli, poiché molti di loro vedono immagini negative per la loro formazione.
- B) I genitori dei tredicenni hanno il compito di vigilare entrambi in modo invadente sull'utilizzo dei social network, poiché molti di loro vedono immagini negative per la loro formazione.
- C) I giovanissimi che vedono sui social network immagini diseducative possono essere aiutati dai genitori solo se sono concordi e rispettosi della privacy dei figli.
- D) L'unico metodo efficace per il difficile quanto cruciale compito di guida dei genitori, che devono confrontarsi anche con le immagini accessibili sui social network, è di vigilare



costantemente sui figli fin dalla più giovane età, evitando di mostrare pareri contrastanti davanti a loro.

25. *“In genere, il minore impara a gestire i propri impulsi aggressivi seguendo gli esempi che vede a casa: se il genitore non sa esprimere la propria collera in modo costruttivo, non sarà neppure in grado di educare il proprio figlio al rispetto per i compagni e per quello che provano. Il bambino imiterà il comportamento dei suoi e si indirizzerà verso una comunicazione di tipo aggressivo o passivo-aggressivo.”*

Individuare l'alternativa che meglio sintetizza il testo secondo i criteri indicati.

- A) I minori, i cui genitori, non sapendo esprimere la propria collera in modo costruttivo, non educano al rispetto, avranno una comunicazione di tipo aggressivo o aggressivo-passivo.
- B) I genitori dei minori che non sanno gestire i propri impulsi aggressivi, non sanno educare il proprio figlio al rispetto per i compagni e per quello che provano.
- C) I minori, i cui genitori non educano al rispetto per i compagni e per quello che provano, non sapranno esprimere la collera e avranno una comunicazione di tipo aggressivo o aggressivo-passivo.
- D) Poiché il bambino imita il comportamento dei genitori, si indirizzerà ad un comportamento di tipo aggressivo o di tipo passivo-aggressivo nei loro confronti se non sarà educato al rispetto per ciò che provano i suoi compagni.

Brano 1

Leggere il brano e rispondere a ogni quesito solo in base alle informazioni contenute (esplicitamente o implicitamente) nel brano e non in base a quanto il candidato eventualmente conosca sull'argomento.

In Gran Bretagna, tra il 1907 e il 1921, si sviluppano numerose esperienze di educazione libertaria. In questi anni, in modo particolare, abbiamo una concentrazione di tante scuole e attività pedagogiche che si richiamano ai principi libertari. Da questo punto di vista la Gran Bretagna non fa eccezione rispetto ad altri paesi europei anche perché pure qui le condizioni storiche, culturali e sociali, risentono di un comune sentire europeo.

L'inizio del Novecento raccoglie l'eredità dei secoli passati e seguita con attenzione. Proprio nel 1900 una femminista svedese, Ellen Key, pubblica un libro che fin dal titolo proclama l'avvento del “secolo del bambino”. In questo testo la Key riconosce fondamentale l'educazione del bambino come individuo socialmente inserito e quindi determinante per il futuro dell'intera società. Per educarlo è indispensabile, secondo l'autrice, che l'educatore, o l'adulto, si trasformi in bambino, in modo da poter cogliere e conservare la semplicità del carattere infantile, permettendo così anche la trasformazione del vecchio ordine sociale. Questo libro attrae i riformatori e i propugnatori di un rinnovamento radicale dell'educazione in tutta Europa e, in Gran Bretagna, si inserisce perfettamente in una tendenza filosofica che, muovendo da John Locke, attraversa tutto il periodo della rivoluzione del 1688-89, soprattutto nei suoi elementi più radicali. In particolare nella filosofia dell'empirismo di Locke, e nella sua contrapposizione con lo storicismo di Vico, noi possiamo trovare l'incipit di una tradizione di forte sperimentalismo e di autonomia, di libertà, di confronto e di tolleranza, che caratterizza anche la formazione di esperienze educative libertarie, spontaneamente createsi, grazie ad una visione culturale pragmatica e nonostante una ridotta presenza e influenza dell'anarchismo.

(da: F. Codello, “La buona educazione”, Franco Angeli, 2005)

26. Lo sviluppo dell'educazione libertaria in Gran Bretagna: (vedi Brano 1)

- A) si afferma contemporaneamente alla sua diffusione in Europa
- B) è eccezionale rispetto al resto dell'Europa
- C) prende avvio a seguito della pubblicazione del testo della Key
- D) ha luogo nonostante le condizioni sociali del paese

27. Secondo Ellen Key, l'agire di un adulto che si “trasformi” in bambino nell'ambito dell'educazione: (vedi Brano 1)

- A) faciliterebbe il cambiamento dell'ordine sociale
- B) confermerebbe l'avvento del “secolo del bambino”
- C) è indice di confronto e tolleranza
- D) porrebbe le basi di un sentire comune europeo

28. Quale tra le seguenti affermazioni NON è deducibile dal brano 1?

- A) L'educazione libertaria nasce in Gran Bretagna
- B) La Key riconosce l'importanza dei bambini vedendo in loro la società del futuro
- C) Locke visse in epoca precedente rispetto a Ellen Key
- D) L'empirismo è più vicino all'educazione libertaria dello storicismo

29. Quale delle seguenti affermazioni NON è deducibile dal brano 1?

- A) In Inghilterra sono sorte diverse scuole nel corso del primo lustro del Novecento
- B) L'inizio del secolo scorso si fa carico delle problematiche affrontate nei secoli precedenti
- C) Il "secolo del bambino" vuole riscattarne l'importanza sociale, facendolo divenire oggetto di studio
- D) Il libro della Key è ben accolto nel clima culturale d'Oltremania

30. L'empirismo è in contrasto con: (vedi Brano 1)

- A) nessuna delle altre alternative è corretta
- B) la visione pragmatica
- C) lo sperimentalismo
- D) l'anarchismo

Brano 2

Leggere il brano e rispondere a ogni quesito solo in base alle informazioni contenute (esplicitamente o implicitamente) nel brano e non in base a quanto il candidato eventualmente conosca sull'argomento.

Obesità infantile: ormai è epidemia globale. In nazioni ricche, come gli Stati Uniti, è sovrappeso un bambino su quattro, ma anche Paesi a minore tenore economico, come la Cina o la Russia, si trovano a fronteggiare una crescita preoccupante del numero dei piccoli gravati da chili di troppo. Lo indica una ricerca condotta dall'University of North Carolina at Chapel Hill.

E l'Italia, che pure può vantare una percentuale di adulti obesi sotto la media europea, non ha invece di che andare fiera se si considera il peso dei suoi abitanti con meno di dodici anni di età. Secondo dati diffusi lo scorso anno dal British Medical Journal, infatti, i nostri piccoli connazionali sovrappeso sono ben il 20%. E il dato è ancora più grave se si considera che questa cifra è raddoppiata in soli dieci anni.

Un quadro complessivo che preoccupa, anche perché ora sappiamo con maggiore precisione che in passato quali sono i rischi cui vanno incontro i giovanissimi obesi.

Ricercatori dell'Ospedale Necker Enfants-Malades di Parigi hanno infatti recentemente studiato un gruppo di bambini obesi di età media di dodici anni, confrontandoli con coetanei di peso normale e constatando che i piccoli "grassottelli" hanno livelli di colesterolo "cattivo" e trigliceridi significativamente maggiori della norma, nonché colesterolo "buono" più basso. Non solo: una buona quota di essi ha anche dimostrato ridotta tolleranza al glucosio e/o resistenza all'insulina, segni chiari di un elevato rischio di diabete di tipo II. Infine, esami condotti con ultrasuoni hanno dimostrato che la distensibilità delle arterie dei bimbi sovrappeso era decisamente ridotta e che le arterie presentavano segni di disfunzione endoteliale (cioè del tappeto di cellule che riveste l'interno di questi vasi). E riduzione di elasticità e alterazioni endoteliali possono essere considerati i primi segni dello sviluppo dell'arteriosclerosi. Una prova documentata, quindi, del maggior rischio dei piccoli obesi nei confronti di problemi cardiovascolari come infarto, anche in età giovanile.

Che cosa fare quindi? Il primo intervento è certamente quello sull'alimentazione: la dieta dei giovani in crescita deve garantire tutti i nutrienti essenziali, ma in generale si deve dare maggiore spazio a frutta e verdura ed eliminare i cibi ricchi di grassi e zuccheri quali merendine, gelati, patatine fritte e bevande gasate e zuccherate. Il secondo fronte riguarda l'attività fisica, troppo spesso trascurata a favore di televisione e videogiochi.

31. Quale dei seguenti titoli esprime efficacemente il contenuto del brano 2?

- A) Grandi rischi per piccoli obesi
- B) Paesi ricchi e poveri in gara per l'obesità infantile
- C) Dieta rigorosa per i più piccoli
- D) Sempre più rischio di arteriosclerosi tra soggetti in tenera età

32. Su quale tipo di rivista potrebbe verosimilmente essere pubblicato il brano 2?

- A) Scientifico-divulgativo
- B) Economico
- C) Di arte e architettura
- D) Di indagine statistica



33. Quali dei seguenti fattori riscontrati in bambini obesi costituiscono segni di rischio di diabete di tipo II? (vedi Brano 2)
- A) Scarsa tolleranza al glucosio e/o resistenza all'insulina
 - B) Ridotta elasticità delle arterie
 - C) Disfunzione endoteliale delle arterie
 - D) Alto livello di colesterolo "buono"
34. Quale delle seguenti affermazioni NON è presente nel brano 2?
- A) I bambini italiani sovrappeso, con un'età compresa da uno a quattordici anni, sono più del 20%
 - B) Nei Paesi ricchi un bambino su quattro è sovrappeso
 - C) La cifra di bambini italiani obesi è raddoppiata in dieci anni
 - D) Il problema dell'obesità infantile interessa anche la Russia
35. Quali soluzioni l'autore propone al problema dell'obesità infantile? (vedi Brano 2)
- A) Alimentazione equilibrata e sana attività sportiva
 - B) Alimentazione esclusivamente a base di carboidrati e moderata attività sportiva
 - C) Alimentazione basata esclusivamente su frutta e verdura
 - D) Attività sportiva intensa con allenamento quotidiano

Brano 3

Leggere il brano e rispondere a ogni quesito solo in base alle informazioni contenute (esplicitamente o implicitamente) nel brano e non in base a quanto il candidato eventualmente conosca sull'argomento.

La figura del nonno è cambiata parallelamente alla velocità che trasformava la nostra quotidianità. L'aspettativa di vita è migliorata contribuendo alla transizione in atto: [1] oggi quasi l'ottanta per cento dei nipoti ha almeno un nonno vivente, un dato enorme se comparato a quello delle generazioni che hanno conosciuto il volto del nonno solo attraverso l'ultima fotografia inviata dal fronte. Un dato che ne comporta un altro di non minore importanza dal punto di vista educativo. I nonni non devono più frequentare i nipoti solo finché sono bambini, ma li possono accompagnare anche lungo l'adolescenza, fino all'ingresso nell'età adulta. Le differenze tra la famiglia di oggi e quella tradizionale non si limitano agli effetti della crescita dell'aspettativa di vita: esse persistono anche per via dei cambiamenti che hanno trasferito la cellula fondamentale della nostra comunità dal modello patriarcale a quello nucleare, dove i figli sono al massimo un paio e dove l'organizzazione del lavoro e della quotidianità si stanno modificando assieme a una visione più "culturale" della vita: inevitabile, dunque, che anche la figura dei nonni segua analogo e profonda mutazione.

La "tendenziale" pari opportunità tra i generi ha portato le madri, come i padri, a cercare la propria identità non solo in casa ma anche sul lavoro, costruendo una propria professione, proprie relazioni sociali e amicali. Questa trasformazione, da sempre auspicata, ha generato nuove necessità: i figli, terminate le lezioni, tornano in una casa spesso vuota fino a sera, quando i genitori torneranno dal lavoro. Diventa dunque ovvio far riferimento ai nonni... Nasce così il nonno baby-sitter, ovvero una presenza costante nella quotidianità di bambini e adolescenti, tanto costante da confondersi con la figura dei genitori e perfino da collidere, a volte, con essi. L'incarico organizzativo e il controllo dei piccoli diventa, in tale contesto, delega educativa a tutto tondo. Si viene a creare un'ulteriore confusione nella gerarchia del potere familiare e i bambini si trovano davanti più persone che dovrebbero stabilire le regole della quotidianità, ma che spesso sono in conflitto tra loro perché soggetti con punti di vista diversi e contraddittori. Dalla sovrapposizione di comandi nasce un'evidente confusione per il bambino o l'adolescente, il quale dovrebbe e vorrebbe sapere che esiste un solo linguaggio educativo invece di una pletora di ordini e contrordini.

(da: P. Crepet, "Elogio dell'amicizia", Einaudi)

36. Argomento del brano 3 è:
- A) il cambiamento del ruolo dei nonni parallelamente alla realtà socio-culturale
 - B) lo sfruttamento dei nonni come baby-sitter
 - C) l'inadeguatezza degli anziani come educatori
 - D) la perdita di valore della figura dell'anziano nella società contemporanea
37. Quale tra i seguenti fatti NON è una causa del cambiamento della famiglia? (vedi Brano 3)
- A) Il cambiamento dei ruoli generazionali
 - B) La maggior aspettativa di vita
 - C) La nascita del modello nucleare
 - D) Il cambiamento dell'organizzazione del lavoro

- 38. La delega educativa, secondo l'autore: (vedi Brano 3)**
- A) confonde bambini e adolescenti per il sovrapporsi di regole diverse
 - B) è negativa soprattutto nell'adolescenza
 - C) causa inevitabilmente contrasti tra genitori e nonni
 - D) è un fenomeno nato con la crisi economica
- 39. Nella frase contrassegnata da [1], "...oggi quasi l'ottanta per cento dei nipoti ha almeno un nonno vivente...", "dei nipoti" è complemento: (vedi Brano 3)**
- A) partitivo
 - B) di specificazione
 - C) predicativo del soggetto
 - D) di limitazione
- 40. Nel brano 3 si sostiene che:**
- A) è importante che oggi i nonni possano seguire i nipoti finché diventano adulti
 - B) i nonni che non tornavano dal fronte diventavano figure mitiche per i nipoti
 - C) le madri, ricercando la propria identità fuori dalla famiglia, sottraggono attenzioni ai figli adolescenti
 - D) è necessario educare i nonni a non sovrapporsi all'autorità dei genitori

Test di Cultura letteraria, storico-sociale e geografica

- 41. Quale dei seguenti è autore del romanzo "Senilità"?**
- A) Italo Svevo
 - B) Thomas Mann
 - C) Matilde Serao
 - D) Marcel Proust
- 42. Chi era Otto von Bismarck?**
- A) Il Cancelliere prussiano che unificò la Germania
 - B) Il banchiere svizzero che finanziò la spedizione dei Mille
 - C) Il patriota cecoslovacco che partecipò alla Repubblica Romana
 - D) Il generale austriaco sconfitto durante le Cinque Giornate di Milano
- 43. Quale dei seguenti poeti è considerato un simbolista?**
- A) Charles Baudelaire
 - B) Thomas Eliot
 - C) John Keats
 - D) Novalis
- 44. L'impero zarista ebbe fine con:**
- A) la rivoluzione russa
 - B) la prima Duma
 - C) lo scoppio della prima guerra mondiale
 - D) la guerra russo-giapponese
- 45. Quali sono gli estremi cronologici della seconda guerra mondiale?**
- A) 1939-1945
 - B) 1940-1943
 - C) 1938-1948
 - D) 1922-1945



- 46. Chi scrisse "1984"?**
- A) George Orwell
 - B) Hannah Harendt
 - C) Eric Hobsbawm
 - D) Carl Schmitt
- 47. Cosa propugnava il movimento irredentista?**
- A) L'unione all'Italia di Trentino, Venezia Giulia, Istria e Dalmazia
 - B) La traduzione dei termini stranieri utilizzati nella lingua italiana e la loro cancellazione
 - C) L'indipendenza della Sicilia dall'Italia
 - D) Il ritorno del potere temporale dei papi
- 48. In quale città si svolsero, nel 1871, gli eventi della cosiddetta "Comune"?**
- A) Parigi
 - B) Madrid
 - C) Vienna
 - D) Tunisi
- 49. Come si chiama la pausa metrica secondaria all'interno di un verso?**
- A) Cesura
 - B) Chiasmo
 - C) Rima
 - D) Catafora
- 50. I moti del 1848, sia in Italia sia in Europa, per quali aspetti differivano dai precedenti?**
- A) Per la grande partecipazione delle masse popolari urbane e per l'emergere di obiettivi sociali oltreché politici
 - B) Per l'appoggio che ottennero dalle Chiese locali
 - C) Perché avevano un obiettivo unico, prefigurato dai socialisti francesi e sintetizzabile nella lotta al nascente capitalismo
 - D) Perché, a differenza dei moti del 1820-21 e del 1830-31, riguardarono anche l'Italia
- 51. Quale dei seguenti autori NON è nato nel XV secolo?**
- A) Silvio Pellico
 - B) Ludovico Ariosto
 - C) Niccolò Machiavelli
 - D) Luigi Pulci
- 52. In quale area geografica si trova il Madagascar?**
- A) Africa Meridionale
 - B) Oceania
 - C) Asia centrale
 - D) Europa
- 53. Quale delle seguenti città europee è situata più a est?**
- A) Mosca
 - B) Parigi
 - C) Madrid
 - D) Roma

54. Quale delle seguenti Regioni è attraversata dal fiume Arno?

- A) Toscana
- B) Emilia-Romagna
- C) Lombardia
- D) Liguria

55. Quale dei seguenti Stati è confinante con la Svizzera?

- A) Austria
- B) Repubblica Ceca
- C) Paesi Bassi
- D) Polonia

56. Il sistema montuoso della Sierra Morena si trova in:

- A) Spagna
- B) Messico
- C) Brasile
- D) Argentina

57. Agostino Depretis fu il principale esponente della:

- A) sinistra storica italiana
- B) destra storica italiana
- C) carboneria ottocentesca
- D) repubblica romana del 1849

58. Dove si trovano il Tigri e l'Eufrate?



- A) Nell'area rappresentata dal n. 1
- B) In nessuna delle aree indicate in figura
- C) Nell'area rappresentata dal n. 3
- D) Nell'area rappresentata dal n. 4

Brano 4

Leggere il testo seguente e rispondere ai relativi quesiti.

[...]

Quell'uguale belato era fraterno
al mio dolore. Ed io risposi, prima
per celia, poi perché il dolore è eterno,
ha una voce e non varia.

Questa voce sentiva
gemere in una capra solitaria.

[...]

[da U. Saba, "La capra"]



59. L'espressione "una voce" (Verso 4) significa: (vedi Brano4)

- A) un'unica voce
- B) una voce qualsiasi
- C) almeno una voce
- D) la prima voce

60. Individuare lo schema delle rime. (vedi Brano 4)

- A) ABACDC
- B) ABACCD
- C) ABCDEF
- D) ABABCC

Test di Cultura matematico-scientifica

61. Quale delle seguenti unità di misura è più appropriata per esprimere la massa di una penna biro?

- A) Grammo
- B) Milligrammo
- C) Kilogrammo
- D) Ettogrammo

62. Qual è il risultato della differenza $0,18 - 0,044$?

- A) 0,136
- B) 0,224
- C) 0,62
- D) $-0,26$

63. Esprimere in millimetri la quantità $0,0541$ m.

- A) 54,1 mm
- B) 5,41 mm
- C) 541 mm
- D) 5.410 mm

64. La differenza fra $7/9$ e $3/4$ è pari a:

- A) $1/36$
- B) $4/5$
- C) $4/36$
- D) $3/36$

65. Qual è il resto della divisione intera $314 : 5$?

- A) 4
- B) 1
- C) 2
- D) 3

66. Se $a = -3$ e $b = 2$, allora l'espressione $(3a - b)(1 - a) / 2$ vale:

- A) -22
- B) 28
- C) -28
- D) 22

67. L'equazione $8x + 3 = 9x$ ammette come soluzione:
- A) $x = 3$
 - B) $x = -3$
 - C) $x = 9$
 - D) $x = 8$
68. Quale tra i seguenti minerali si presenta allo stato liquido?
- A) Mercurio
 - B) Pirite
 - C) Fluorite
 - D) Quarzo
69. Un maratoneta percorre la distanza di 100 m in 50 s; qual è la sua velocità media?
- A) 2 m/s
 - B) 1 m/s
 - C) 50 m/s
 - D) 5 m/s
70. Quanto misurano base e altezza di un rettangolo con area uguale a 3 centimetri quadrati e perimetro uguale a 8 cm?
- A) 1 cm e 3 cm
 - B) 4 cm e 2 cm
 - C) 6 cm e 3 cm
 - D) 8 cm e 1 cm
71. Un angolo di ampiezza 270° è:
- A) maggiore di un angolo piatto
 - B) uguale a un angolo giro meno un angolo piatto
 - C) maggiore di un angolo giro
 - D) minore di un angolo retto
72. Quanto misura il perimetro di un triangolo isoscele con lato obliquo uguale a 5 cm e base uguale a 6 cm?
- A) 16 cm
 - B) 12 cm
 - C) 18 cm
 - D) 10 cm
73. Che cos'è l'ipotalamo?
- A) Una parte dell'encefalo
 - B) Una porzione dell'intestino
 - C) Un organo del sistema linfatico
 - D) Un osso del piede
74. I funghi:
- A) non sono né piante né animali
 - B) sono piante
 - C) non sono esseri viventi
 - D) sono animali
75. Quale delle seguenti grandezze si può misurare in kg/m^3 ?
- A) Densità
 - B) Pressione
 - C) Accelerazione
 - D) Energia cinetica



- 76. Con "elettrosmog" si intende l'inquinamento prodotto:**
- A) dalle linee di trasmissione dell'energia elettrica e dalle antenne per le radiocomunicazioni
 - B) dalle automobili elettriche
 - C) dall'emissione di ossidi di carbonio
 - D) dalle centrali nucleari
- 77. Se ci si trova in un luogo in cui l'ora locale è -6h rispetto a quella di Greenwich, si può dire che si è:**
- A) a ovest del meridiano fondamentale
 - B) a est del meridiano fondamentale
 - C) a sud dell'Equatore
 - D) a nord dell'Equatore
- 78. Il nome Pangea si riferisce:**
- A) a un super continente formato dall'unione di tutte le terre emerse nel Paleozoico
 - B) all'insieme di tutte le terre emerse nel Cenozoico
 - C) a un antico continente ora scomparso
 - D) a un super oceano formato dall'unione di tutti gli oceani nel Paleozoico
- 79. Che cos'è il magma?**
- A) Materiale fuso ad alta temperatura e gas disciolti che vengono emessi durante le eruzioni vulcaniche
 - B) Una lega metallica
 - C) Un arbusto tipico della macchia mediterranea
 - D) Un metallo simile al magnesio
- 80. Gli studi di Linneo riguardavano la:**
- A) classificazione degli organismi
 - B) geologia
 - C) ecologia
 - D) biofisica

***** FINE DELLE DOMANDE *****

In tutti i quesiti proposti la soluzione è la risposta alla lettera A)